




Computer Essentials –3 – Multiple Choice

1. The icon which is usually used to indicate " Computer" / Το εικονίδιο το οποίο απεικονίζει το "Computer" είναι συνήθως:



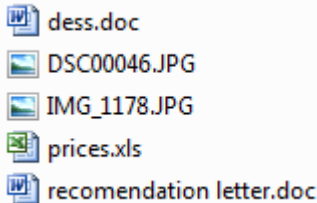
2. The three small icons shown here  have the following functions (reading from left to right):

Τα εικονίδια  εκτελούν τις ακόλουθες ενέργειες (από τα αριστερά προς τα δεξιά)

- (a) Minimise, Close, Restore
- (b) Minimise, Restore, Close
- (c) Minimise, Maximise, Close
- (d) Minimise, Maximise, Restore

3. The list of files shown below is typical of what you would see if you were using the Windows Explorer. The list contains :

Η πιο κάτω λίστα είναι μια τυπική λίστα εικονιδίων που θα βλέπατε αν χρησιμοποιούσατε τον Windows Explorer. Η λίστα περιλαμβάνει:



- (a) 2 graphics files
2 αρχεία γραφικών
- (b) 3 graphics files
3 αρχεία γραφικών
- © 4 graphics files
4 αρχεία γραφικών
- (d) 5 graphics files
5 αρχεία γραφικών

4. This listing shows several backup copies of a payroll system. If today is the 15th February 2001 and the payroll system crashes which one would be the best to restore from?

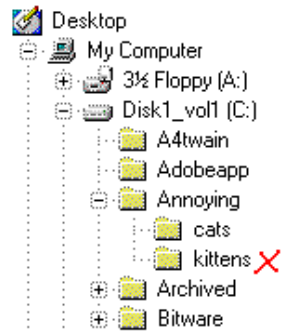
Η πιο κάτω λίστα περιλαμβάνει αντίγραφα ασφαλείας ενός συστήματος μισθοδοσίας. Αν σήμερα η ημερομηνία είναι 15 Φεβρουαρίου 2001 και το σύστημα καταρρεύσει ποιο από τα πιο κάτω αρχεία θα χρησιμοποιήσουμε για να επαναφέρουμε τις πληροφορίες στο σύστημα μας;

Name	Size	Type	Modified
payroll_8l.bak	318KB	BAK File	25/10/00 01:16
payroll_ak.bak	290KB	BAK File	21/06/00 14:23
payroll_ff.bak	427KB	BAK File	10/02/01 13:42
payroll_gk.bak	290KB	BAK File	21/06/00 14:23

- (a) payroll_8l.bak
- (b) payroll_ak.bak
- (c) payroll_ff.bak
- (d) payroll_gk.bak

5. In the list of folders shown below the one with a cross alongside it has a **path name** of:

Ποια είναι η διαδρομή του αρχείου που είναι σημειωμένο με X;



- (a) c:\Annoying\kittens
- (b) c:\kittens
- (c) c:\Annoying\cats\kittens
- (d) c:/Annoying/kittens

6. Which of the file types below is often user for Spreadsheet files (Excel)?

Ποιος από τους πιο κάτω τύπους αρχείων χρησιμοποιείται συνήθως για λογιστικά φύλλα (Excel);

- a) .gif b) .xlsx c) .docx d) .jpeg

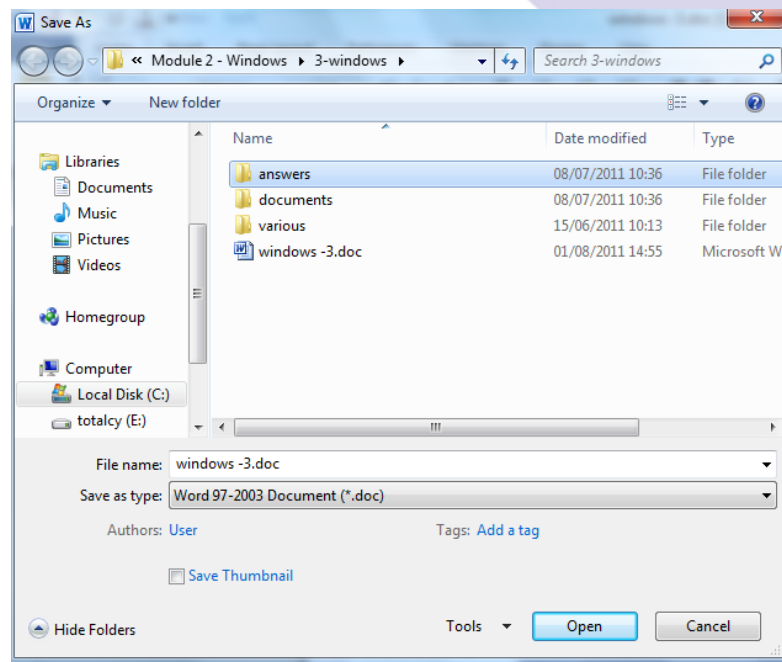
7. Which one of the following options will allow you to change from the current installed printer to another installed printer?

Ποια από τις ακόλουθες εντολές σου επιτρέπει να αλλάξεις τον υφιστάμενο εκτυπωτή σε άλλο της δικής σου επιλογής;

- a. Set as Default Printer.
- b. Pause Printing.
- c. Add Printer.
- d. Printing Preferences...


8. When a user is saving a file this sort of dialogue appears. Here a user is in the process of saving a Text Document. What will happen if the user clicks on "Open" at this point?

Όταν ο χρήστης προσπαθεί να σώσει ένα αρχείο εμφανίζεται το ακόλουθο παράθυρο. Στην συγκεκριμένη περίπτωση ο χρήστης προσπαθεί να σώσει ένα αρχείο κειμένου. Τι θα συμβεί αν ο χρήστης επιλέξει την επιλογή "Open" σ' αυτό το σημείο;



- (a) The file will be saved in the "answers" folder
Το αρχείο θα σωθεί στον φάκελο " answers "
- (b) The system will open the " answers " folder but not save the file
Το σύστημα θα ανοίξει τον φάκελο " answers " αλλά δεν θα σώσει το αρχείο
- (c) The system will report an error and be unable to save the file
Το σύστημα θα παρουσιάσει λάθος και δεν θα μπορεί να σώσει το αρχείο.
- (d) The system will open the " answers " folder and save the file
Το σύστημα θα ανοίξει τον φάκελο " answers " και θα σώσει το αρχείο.

9. Which one of the following icons represents a folder?
Ποιο από τα ακόλουθα εικονίδια αντιπροσωπεύει ένα φάκελο;

- A.  B.  C.  D. 

12. Which of the following is NOT an advantage of using a network?

Ποιο από τα πιο κάτω δεν είναι πλεονέκτημα της χρήσης δικτύων

- A. Shared hardware. / Συσκευές να χρησιμοποιούνται από πολλούς χρήστες
B. Shared peripherals. / Περιφερειακές συσκευές να χρησιμοποιούνται από πολλούς χρήστες
C. Shared files and exchange of data. / Αρχεία και δεδομένα να χρησιμοποιούνται από πολλούς χρήστες
D. Shared remote access to other computers that enables viruses to quickly spread across a network. / Πρόσβαση σε υπολογιστές που επιτρέπουν σε ιούς να απλώνονται στο δίκτυο

13. What is most likely to be affected by a computer virus? Τι είναι πιο πιθανόν να επηρεαστεί από ένα ιό;

- A. Your monitor / Η οθόνη
B. Your data / Τα δεδομένα
C. The speed of your computer / Η Ταχύτητα του υπολογιστή
D. Read only memory / Η μνήμη ROM

16. What is controlled by software copyright regulations. / Τι ελέγχει η νομοθεσία για τα πνευματικά δικαιώματα λογισμικού

- A. Making backups of the software / Δημιουργία Εφεδρικών αντιγράφων λογισμικού
B. Number of copies sold / Αριθμός αντιγράφων που θα δοθούν στην αγορά
C. Type of computer used for the software / Τύπος Η/Υ που θα χρησιμοποιηθεί
D. Illegal distribution of software / Παράνομη διακίνηση του λογισμικού

18. What is a trackball. / Τι είναι trackball.

- A. A monitor / Οθόνη
B. A type of speaker / Τύπος μεγαφώνων
C. An alternative to the mouse / Τύπος ποντικιού
D. A storage device / Συσκευή αποθήκευσης

19. Which type of software can you use without having to pay a fee.

Ποιο από τα ακόλουθα λογισμικά μπορεί να χρησιμοποιηθεί χωρίς να χρειάζεται να πληρώσουμε παράβολο

- A. Freeware
B. Shareware
C. Operating system
D. Application software

20. Which is the BEST way of preventing loss of your data if there is a power cut. / Ποιος είναι ο καλύτερος τρόπος να αποφύγουμε να χάσουμε δεδομένα αν πέσει το ρεύμα

- A. Use a filtered plug / Χρησιμοποιούμε πρίζα με φίλτρα
- B. Make frequent saving of the data / Συχνή αποθήκευση δεδομένων
- C. Ensure passwords are used / Χρησιμοποίηση κωδικών πρόσβασης
- D. Install virus checking software / Ενεργοποίηση λογισμικό αντιιών

21. Which of these is NOT a benefit of e-mail. / Ποιο από τα ακόλουθα ΔΕΝ είναι πλεονέκτημα του e-mail

- A. Ability to send attachments / Η ικανότητα να στέλνει επισυναπτόμενα αρχεία
- B. Receiving junk mail / Παραλαβή άχρηστων e-mail
- C. Instant delivery of your message / Στιγμιαία παράδοση μηνυμάτων
- D. Sending to more than one person at once / Αποστολή μηνυμάτων σε περισσότερα από ένα άτομα ταυτόχρονα

22. Which device would you use to digitise a photograph.

Ποια συσκευή θα χρησιμοποιούσατε για να ψηφιοποιούσατε μία φωτογραφία

- A. Mouse
- B. Printer
- C. Scanner
- D. Woofer

23. You can help to preserve the environment by. / Μπορούμε να προστατέψουμε το περιβάλλον με το να :

- A. using a screensaver / Χρησιμοποιούμε μία προφύλαξη οθόνης
- B. recycling printer cartridges / Ανακυκλώνουμε μελάνια εκτυπωτών
- C. using a mouse / Χρησιμοποιούμε το ποντίκι
- D. using a smaller screen / Χρησιμοποιούμε μικρότερη οθόνη

24. Which of these is NOT an input device. / Ποια ΔΕΝ είναι συσκευή εισόδου

- A. Digital camera
- B. Microphone
- C. Scanner
- D. Speaker

25. Which of the following is a storage device. / Ποια είναι συσκευή αποθήκευσης δεδομένων

- A. Keyboard
- B. Monitor
- C. Speaker
- D. Disk drive

26. Which of the following is NOT a sensible precaution for preventing viruses on your computer.
Ποιο ΔΕΝ είναι ουσιώδης προφύλαξη εναντίων ιών

- A. Using virus checking software / Χρησιμοποίηση πρόγραμμα αντιιών
- B. Only downloading software from reputable web sites / Κατεβάζουμε αρχεία μόνο από αξιόπιστες ιστοσελίδες
- C. Using a screensaver when the computer is idle/ Χρησιμοποίηση screensaver όταν δεν χρησιμοποιούμε τον Η/Υ
- D. Avoiding software from unreliable sources / Αποφεύγουμε εγκατάσταση λογισμικών αν δεν ξέρουμε τον κατασκευαστή

27. Ποιο από τα παρακάτω ΔΕΝ επηρεάζει την ταχύτητα ενός υπολογιστή ;
Which of the following does not affect the speed of a computer.

- a) Η ταχύτητα του σκληρού δίσκου
- b) Το μέγεθος της μνήμης RAM
- c) Η συχνότητα του επεξεργαστή
- d) Το μέγεθος της οθόνης

28. Which of the following statements is NOT TRUE in relation to the Data Protection Act. The data user must ensure that the information.

- A. Is obtained fairly and accurately
- B. Is stored with proper security
- C. Is accurate and up to date
- D. Can be sent abroad at any time

Ποία από τις ακόλουθες δηλώσεις είναι ΛΑΝΘΑΣΜΕΝΗ σε σχέση με την νομοθεσία προστασίας δεδομένων; Ο χρήστης πρέπει να διαβεβαιώσει ότι

- A. Τα δεδομένα έχουν αποκτηθεί με νόμιμα μέσα και είναι ακριβείς
- B. Τα δεδομένα φυλάγονται με ασφάλεια
- C. Τα δεδομένα είναι πρόσφατα ανανεωμένα
- D. Τα δεδομένα μπορούν να στέλνονται στο εξωτερικό ανά πάσα στιγμή

31. Which of these would be used to back up large quantities of data.

Ποιο από τα ακόλουθα μπορεί να χρησιμοποιηθεί για αποθήκευση μεγάλων όγκων δεδομένων

- A. Floppy disk
- B. External Hard disk
- C. Laptop
- D. PDA

32. What is an attachment. / Τι είναι επισυναπτόμενο αρχείο

- A. A peripheral device / Περιφερειακή συσκευή
- B. A file sent with an email message / Αρχείο που αποστέλλεται με ηλεκτρονικό ταχυδρομείο
- C. A component of network software / Μέρος του δικτύου
- D. A password system / Κωδικός πρόσβασης

33. Which of these is a characteristic of RAM. / Ποιο από τα ακόλουθα είναι χαρακτηριστικό της μνήμης RAM

- A. Cannot be erased / Δεν μπορεί να σβηστεί
- B. Lost when the power is switched off / Χάνεται όταν σβήσουμε τον Ηλεκτρονικό Υπολογιστή
- C. Stores data downloaded from the Internet / Αποθηκεύει αρχεία του διαδικτύου
- D. Holds system commands / Έχει φυλαγμένες εντολές του συστήματος

34. Which of the following is NOT an output device. / Ποιο από τα ακόλουθα ΔΕΝ είναι συσκευή εξόδου

- A. Keyboard
- B. Monitor
- C. Printer
- D. Speaker

35. Purchasing goods on a web site is an example of / Η αγορά προϊόντων από μία ιστοσελίδα είναι ένα παράδειγμα

- A. Web site design / Δημιουργία ιστοσελίδας
- B. Networking / Δικτύωση Ηλεκτρονικών Υπολογιστών
- C. Ηλεκτρονικό Εμπόριο / ECommerce
- D. Μηχανή αναζήτησης / Search Engine

36. Which type of memory is used to store applications while they are running.

Ποιο από τα ακόλουθα είναι η μνήμη που χρησιμοποιούν τα προγράμματα καθώς είναι ενεργοποιημένα.

- A. ROM
- B. RAM
- C. Cache
- D. Auxiliary

37. Which of these is NOT a storage device. / Ποιο από τα ακόλουθα ΔΕΝ είναι αποθηκευτικός χώρος

- A. RAM
- B. Zip drive
- C. CD-ROM
- D. Diskette

38. Computers can damage your health in various ways. Which is the best way of preventing this.

- A. Taking frequent breaks
- B. Having good lighting
- C. Using a screen protector
- D. Raising the height of the monitor

Οι Ηλεκτρονικοί υπολογιστές μπορούν να καταστρέψουν την υγεία σας με πολλούς τρόπους. Ο καλύτερος τρόπος να το αποφύγεις είναι:

- A. Συστηματικά διαλείμματα
- B. Καλός φωτισμός
- C. Προστατευτικό οθόνης
- D. Ανύψωση ύψους οθόνης

39. What type of software controls the file system on the computer.

Ποιο από τα ακόλουθα λογισμικά χειρίζεται το σύστημα αρχείων στον Ηλεκτρονικό Υπολογιστή;

- A. GUI
- B. Network software
- C. Operating system software
- D. Application software

40. Which type of computer stores the common files in a network.

Ποιο από τα ακόλουθα είδη Ηλεκτρονικών Υπολογιστών αποθηκεύει τα αρχεία σε ένα δίκτυο;

- A. Mainframe
- B. Laptop
- C. Desktop
- D. Server

41. Many supermarkets use computers. Which of these benefits do you think is most important to the customers.

- A. Faster service
- B. Improved Stock control
- C. Better working environment
- D. Increased customer information

Πολλές υπεραγορές χρησιμοποιούν ηλεκτρονικούς Υπολογιστές. Ποιο από τα ακόλουθα πλεονεκτήματα πιστεύετε ότι είναι πιο σημαντικό για τους πελάτες;

- A. Γρήγορη εξυπηρέτηση
- B. Καλύτερη παρακολούθηση αποθεμάτων προϊόντων
- C. Καλύτερες συνθήκες εργασίας
- D. Περισσότερες πληροφορίες στους πελάτες

42. What does CPU stand for. / Τα αρχικά CPU σημαίνουν

- A. Central Power Unit
- B. Computer Processing Unit
- C. Computer Programming Unit
- D. Central Processing Unit

43. What is a computer virus. / Τι είναι ιός του Ηλεκτρονικού Υπολογιστή

- A. a program that can damage your computer / Πρόγραμμα που κάνει ζημία στον Ηλεκτρονικό Υπολογιστή
- B. a hardware fault / Βλάβη στο Υλικό του Ηλεκτρονικού Υπολογιστή
- C. a program that you have downloaded from an Internet site / Πρόγραμμα που κατεβάσαμε από το Διαδύκτιο
- D. a corrupted area of your disk / Ζημία σε μέρος του σκληρού δίσκου

45. Which of these computer based operations uses bar code input.

- A. Marking an online test paper
- B. Issuing a book in a library
- C. Paying for goods using a credit card
- D. Ordering goods from a web site

Ποιες από τις πιο κάτω λειτουργίες χρησιμοποιούν bar code input

- (a) Διόρθωση γραπτού
- (b) Δανεισμός βιβλίου από βιβλιοθήκη
- (c) Πληρώνεις για προϊόντα με πιστωτική κάρτα
- (d) Παραγγέλεις προϊόντα από ιστοσελίδα

47) Explain the initials VDU / Εξηγήστε τα αρχικά VDU

- A. Vision Data Unit
- B. Vision Display Unit
- C. Visual Display Unit
- D. Visual Data Uniform

51) Explain the initials PC / Εξηγήστε τα αρχικά PC

- A. Personal Computer
- B. People Computer
- C. Personal Cat
- D. Person Computer

53) Explain the initials www / Εξηγήστε τα αρχικά www

- A. world wider web
- B. world wide web
- C. web world wide
- D. webpage wider world

55. Why is it important to backup files to a removable storage device? Γιατί είναι σημαντικό να δημιουργούμε αντίγραφα ασφαλείας σε αφαιρούμενη συσκευή αποθήκευσης (removable storage device);

- (a) Τα αρχεία ελέγχονται για ιούς
- (b) Τα αχρείαστα αρχεία διαγράφονται από τον σκληρό δίσκο
- (c) Ο χώρος του σκληρού δίσκου αυξάνεται
- (d) Αποφεύγεται η απώλεια πληροφοριών σε περίπτωση καταστροφής του σκληρού δίσκου

- (a) Files are virus checked
- (b) Unwanted files are removed from the hard disk
- (c) Hard disk space is increased
- (d) Loss of data due to hard disk failure is avoided

56. Which of the paths shown is the correct one to see the non-responding application? Ποια βήματα ακολουθούμε για να δούμε ποια από τις ανοιχτές εφαρμογές του υπολογιστή μας δεν ανταποκρίνεται;

- (a) Ctrl+Shift+Delete --> Start Task Manager --> Applications
- (b) Ctrl+Alt+Delete --> Control Panel --> Applications
- (c) Ctrl+Alt+Delete --> Start Task Manager --> Applications
- (d) Ctrl+Esc+Delete --> Start Task Manager --> Applications

57. Which of the options shown is not an advantage of a virus-scanning application? Ποια από τις επιλογές που σας δίνονται δεν είναι ένα πλεονέκτημα από την χρήση λογισμικού ανίχνευσης ιών;

- (a) Reducing the likelihood of data loss / Μείωση της πιθανότητας απώλειας δεδομένων
- (b) Reduce the likelihood of harm to the computer / Μείωση της πιθανότητας βλάβης του υπολογιστή
- (c) Avoiding control of sensitive data / Αποφυγή ελέγχου ευαίσθητων δεδομένων
- (d) Reducing the likelihood of our computer to slow down / Μείωση της πιθανότητας ο υπολογιστής μας να γίνει πιο αργός

58. The random access memory (RAM) is... Η μνήμη τυχαίας προσπέλασης (RAM) είναι...

- (a) Memory for permanent storage / Μνήμη για μόνιμη αποθήκευση
- (b) A peripheral device / περιφεριακή Συσκευή
- (c) The main memory area used by a program when its active / Η κύρια περιοχή μνήμης που χρησιμοποιείται από ένα πρόγραμμα όταν είναι ενεργό
- (d) Read only memory / Μνήμη μόνο για ανάγνωση

59. Which of the available tasks is a function of the operating system? Ποια από τις επιλογές που σας δίνονται είναι αρμοδιότητα του λειτουργικού συστήματος;

- (a) Η προσθήκη δεδομένων σε ένα ηλεκτρονικό φύλλο / The addition of data to a spreadsheet
- (b) Η δημιουργία αναφοράς σε μια βάση δεδομένων / The production of a database report
- (c) Η σάρωση μιας φωτογραφίας / The scanning of a photograph
- (d) Η αντιγραφή ενός αρχείου / The copying of a file

60. Which of the available options typically has the smallest storage capacity? Ποια από τις συσκευές που σας δίνονται έχει συνήθως τη μικρότερη χωρητικότητα;

- (a) CD-ROM
- (b) DVD
- (c) Internal Hard Disk
- (d) Network Drive